






























1. Сосчитай количество ягод малины на каждой картинке и обведи соответствующую количеству цифру:


					
5	3	4	4	3	5
					
2	1	3	3	4	2

2. Раскрась столько же предметов, какая цифра указана в начале ряда:

1					
2					
3					
4					
5					

3. С помощью мамы посчитай и запиши, сколько ягод созрело.

Посчитай и запиши сколько ягод выросло на кусте.



NEPOSED.NET


4. Расскажи, сколько ягод ты посчитал в предыдущем задании, согласовывая имя числительное с именем существительным (одна ягода, две ягоды, пять ягод...)

5. Изучение ориентировки в пространстве с использованием понятий «спереди», «сзади», «перед», «за»: кто в сказке «РЕПКА» стоит впереди, а кто сзади? Покажи и расскажи. Кто стоит перед внучкой? Перед Мышкой? За дедом? За Жучкой?

17. Первый, последний, крайний





Назови, кто первый, кто следующий, кто последний; кто за кем, кто перед кем.






Назови и раскрась всех, кто идёт перед кошкой. Как называется птица, которая идёт за кошкой?

6. Раскрась клубнику, соблюдая правило. Назови все цвета, которые тебе понадобились для раскрашивания клубники.

Клубника



- 1 
- 2 
- 3 
- 4 