




17. На дереве было пять светло-зелёных листиков, два упали на землю. Сколько светло-зелёных листиков осталось на дереве?



Нарисуй в прямоугольниках решение задачи в виде вот таких  листиков. Запиши решение задачи соответствующим математическим выражением и прочитай запись.

Напиши знаки «=», «>», «<». Острый конец показывает меньшее число.



Напиши каждому мальчику и каждой девочке цифры так, чтобы при их сложении получилось число 7. Скажи, какие цифры ты написал.

